



gabaritando enem

LEIA ATENTAMENTE AS INSTRUÇÕES ABAIXO

1. Este CADERNO DE QUESTÕES contém 85 questões numeradas de 1 a 65, relativas a TODAS as disciplinas.
2. Confira se o seu CADERNO DE QUESTÕES contém a quantidade de questões mencionadas no item anterior. Caso o caderno esteja incompleto, tenha qualquer defeito ou apresente divergência, comunique ao professor aplicador da sala para que ele tome as providências cabíveis.
3. Assinale no gabarito a sua opção de Língua Estrangeira. As questões de Língua Inglesa são as de número 41 a 45 e as questões de Língua Espanhola as de número 16 a 20.
4. Verifique no CARTÃO-RESPOSTA, se você já preencheu seus dados corretamente com caneta esferográfica de tinta AZUL ou PRETA.
5. ATENÇÃO: não dobre, não amasse nem rasure o CARTÃO-RESPOSTA, pois ele não poderá ser substituído.
6. Para cada uma das questões objetivas são apresentadas 5 opções, identificadas com as letras A, B, C, D e E. Apenas uma responde corretamente à questão.
7. No CARTÃO-RESPOSTA, preencha todo o espaço correspondente à opção escolhida para a resposta. A marcação em mais de uma opção anula a questão, mesmo que uma das respostas esteja correta.
8. O tempo disponível para esta prova depende da organização de cada estabelecimento em que ela será aplicada.
9. Reserve um tempo para marcar seu CARTÃO-RESPOSTA. Os rascunhos e as marcações assinaladas no CADERNO DE QUESTÕES não serão considerados na avaliação.
10. Você será excluído do simulado no caso de:
 - a) prestar, em qualquer documento, declaração falsa ou inexata;
 - b) agir com incorreção ou descortesia para com qualquer participante ou pessoa envolvida no processo de aplicação do simulado;
 - c) perturbar, de qualquer modo, a ordem no local de aplicação do simulado, incorrendo em comportamento indevido durante a realização do simulado;
 - d) se comunicar, durante o simulado, com outro participante verbalmente, por escrito ou por qualquer outra forma;
 - e) utilizar qualquer tipo de equipamento eletrônico e de comunicação durante a realização do simulado;
 - f) utilizar livros, notas ou impressos durante a realização do simulado.

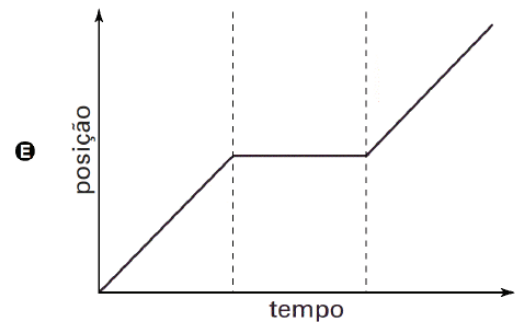
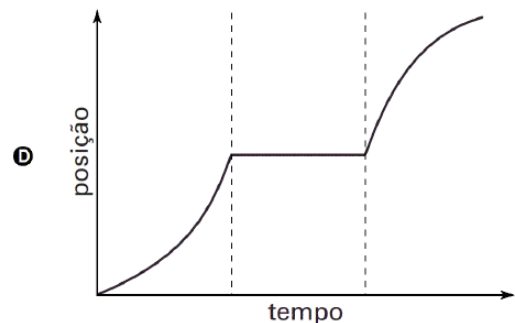
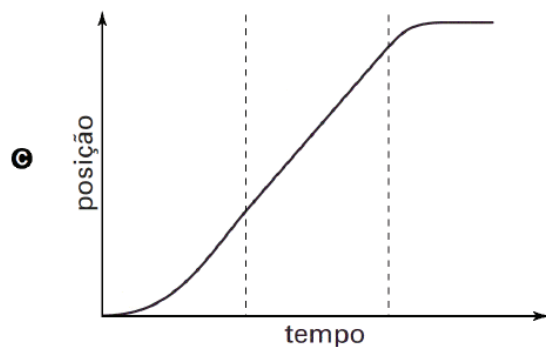
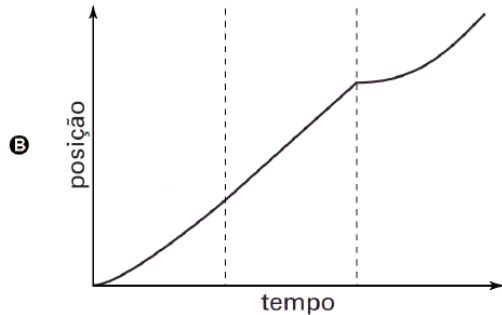
Outras informações em

<http://www.educacao.pr.gov.br/>



Educadores: <http://goo.gl/JaXk5>

Alunos: <http://goo.gl/MzVOv>



GEOGRAFIA

QUESTÃO 31 (ENEM 2012 - QUESTÃO 21)

A soma do tempo gasto por todos os navios de carga na espera para atracar no porto de Santos é igual a 11 anos - isso, contando somente o intervalo de janeiro a outubro de 2011. O problema não foi registrado somente neste ano. Desde 2006 a perda de tempo supera uma década.

Folha de S. Paulo. 25 dez. 2011 (adaptado).

A situação descrita gera consequências em cadeia, tanto para a produção quanto para o transporte. No que se refere à territorialização da produção no Brasil contemporâneo, uma dessas consequências é a

- a) realocação das exportações para o modal aéreo em função da rapidez.
- b) dispersão dos serviços financeiros em função da busca de novos pontos de importação.
- c) redução da exportação de gêneros agrícolas em função da dificuldade para o escoamento.
- d) priorização do comércio com países vizinhos em função da existência de fronteiras terrestres.
- e) estagnação da indústria de alta tecnologia em função da concentração de investimentos na infraestrutura de circulação.

QUESTÃO 32 (ENEM 2012 - QUESTÃO 28)

A interface clima/sociedade pode ser considerada em termos de ajustamento à extensão e aos modos como as sociedades funcionam em uma relação harmônica com seu clima. O homem e suas sociedades são vulneráveis às variações climáticas. A vulnerabilidade é a medida pela qual uma sociedade é suscetível de sofrer por causas climáticas.

AYOADE, J. O. Introdução a climatologia para os trópicos. Rio de Janeiro: Bertrand Brasil, 2010 (adaptado).

Considerando o tipo de relação entre ser humano e condição climática apresentado no texto, uma sociedade toma-se mais vulnerável quando

- a) concentra suas atividades no setor primário.
- b) apresenta estoques elevados de alimentos.
- c) possui um sistema de transportes articulado.
- d) diversifica a matriz de geração de energia.
- e) introduz tecnologias à produção agrícola.

QUESTÃO 33 (ENEM 2012 - QUESTÃO 29)

Uma mesma empresa pode ter sua sede administrativa onde os impostos são menores, as unidades de produção onde os salários são os mais baixos, os capitais onde os juros são os mais altos e seus executivos vivendo onde a qualidade de vida é mais elevada.

SEBASTIÃO, N. A corrida para o século XXI: no loop da montanha russa. São Paulo: Companhia das Letras, 2001 (adaptado).

No texto estão apresentadas estratégias empresariais no contexto da globalização. Uma consequência social derivada dessas estratégias tem sido

- a) o crescimento da carga tributária.
- b) o aumento da mobilidade ocupacional.
- c) a redução da competitividade entre as empresas.
- d) o direcionamento das vendas para os mercados regionais.
- e) a ampliação do poder de planejamento dos Estados nacionais.

QUESTÃO 34 (ENEM 2012 - QUESTÃO 35)



Disponível em: <http://nutriteengv.blogspot.com.br>. Acesso em: 2 dez. 2011.

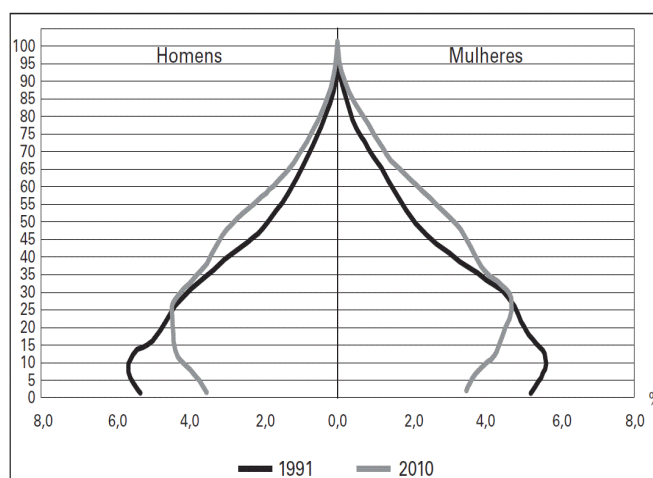
Na charge faz-se referência a uma modificação produtiva ocorrida na agricultura. Uma contradição presente no espaço rural brasileiro derivada dessa modificação produtiva está presente em:

- a) Expansão das terras agricultáveis, com manutenção de desigualdades sociais.

- b) Modernização técnica do território, com redução do nível de emprego formal.
- c) Valorização de atividades de subsistência, com redução da produtividade da terra.
- d) Desenvolvimento de núcleos policultores, com ampliação da concentração fundiária.
- e) Melhora da qualidade dos produtos, com retração na exportação de produtos primários.

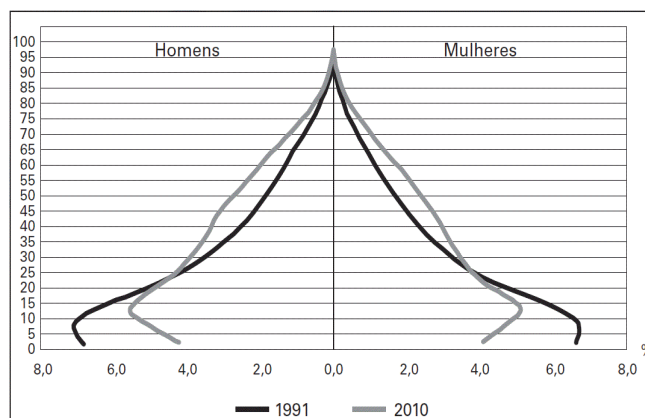
QUESTÃO 35 (ENEM 2012 - QUESTÃO 38)

Composição da população residente urbana por sexo, segundo os grupos de idade - Brasil 1991/2010.



BRASIL. IBGE. Censo demográfico 1991-2010.

Composição da população residente rural por sexo, segundo os grupos de idade - Brasil - 1991/2010.



BRASIL. IBGE. Censo demográfico 1991-2010. BRASIL. IBGE. Censo demográfico 1991-2010. Rio de Janeiro. 2011.

A interpretação e a correlação das figuras sobre a dinâmica demográfica brasileira demonstram um(a)



- a) menor proporção de fecundidade na área urbana.
- b) menor proporção de homens na área rural.
- c) aumento da proporção de fecundidade na área rural.
- d) queda da longevidade na área rural.
- e) queda do número de idosos na área urbana.

II RIA

QUESTÃO 36 (ENEM 2012 - QUESTÃO 07)

Após o retorno de uma viagem a Minas Gerais, onde Pedro I fora recebido com grande frieza, seus partidários prepararam uma série de manifestações a favor do imperador no Rio de Janeiro, armando fogueiras e luminárias na cidade. Contudo, na noite de 11 de março, tiveram início os conflitos que ficaram conhecidos como a Noite das Arrafadas, durante os quais os brasileiros apagavam as fogueiras portuguesas e atacavam as casas iluminadas, sendo respondidos com cacos de garrafas jogadas das janelas.

VAINFAS, R. (Org.). Dicionário do Brasil Imperial. Rio de Janeiro: Objetiva, 2001 (adaptado).

Os anos finais do I Reinado (1822-1831) se caracterizaram pelo aumento da tensão política. Nesse sentido, a análise dos episódios descritos em Minas Gerais e no Rio de Janeiro revela:

- a) estímulos ao racismo.
- b) apoio ao xenofobismo.
- c) críticas ao federalismo.
- d) repúdio ao republicanismo.
- e) questionamentos ao autoritarismo.

QUESTÃO 37 (ENEM 2012 - QUESTÃO 12)

Mas uma coisa ousou afirmar, porque há muitos testemunhos, e é que vi nesta terra de Paragua [Panamá] maiores indícios de ouro nos dois primeiros dias do que na Espanha em quatro anos, e que as terras da região não podem ser mais bonitas nem mais bem lavradas. Ali, se quiserem podem mandar extrair à vontade.

Carta de Colombo aos reis da Espanha, julho de 1500. Apud ALADO, J. F. EIREDO, C. Colombo e a América: quinhentos anos depois. São Paulo: Atual, 1991 (adaptado).

O documento permite identificar um interesse

econômico espanhol na América a partir do século XVI. A implicação desse interesse na ocupação do espaço americano está indicada na:

- a) expulsão dos indígenas para fortalecer o clero católico.
- b) promoção das guerras justas para conquistar o território.
- c) imposição da catequese para explorar o trabalho africano.
- d) opção pela policultura para garantir o povoamento ibérico.
- e) fundação de cidades para controlar a circulação de riquezas.

QUESTÃO 38 (ENEM 2012 - QUESTÃO 18)

Com sua entrada nos gibis, o Capitão chegaria para apaziguar a agonia, o autoritarismo militar e combater a tirania. Claro que, em tempos de guerra, um gibi de um herói com uma bandeira americana no peito aplicando um sopapo no Führer só poderia ganhar destaque, e o sucesso não demoraria muito a chegar.



COSCIA, C. Capitão América, o primeiro vingador: crítica. Disponível em: www.revistastartcom.br. Acesso em: 2 jan. 2012 (adaptado).

A capa da primeira edição norte-americana da revista do Capitão América demonstra sua associação com a participação dos Estados Unidos na luta contra:

- a) o Triplice Aliança, na Primeira Guerra Mundial.
- b) os regimes totalitários, na Segunda Guerra Mundial.
- c) o poder soviético, durante a Guerra Fria.
- d) o movimento comunista, na Guerra do Vietnã.